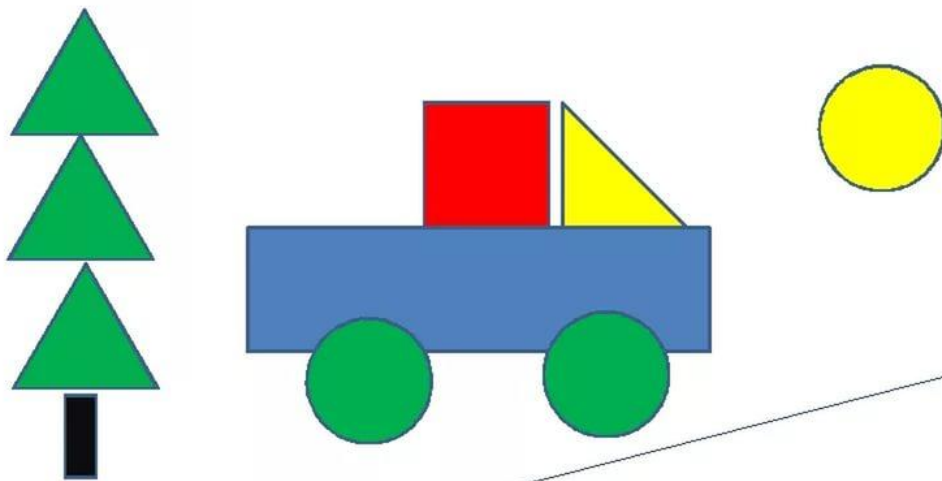
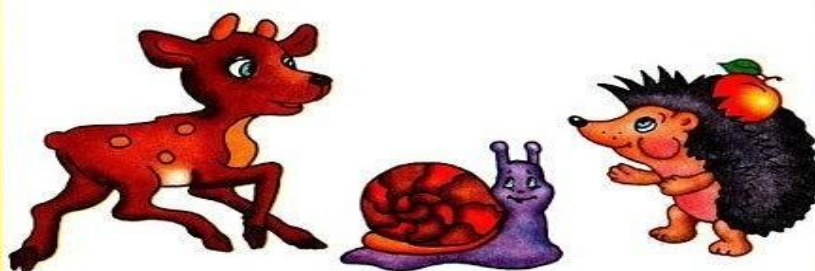


**Р**ассмотрите вместе с малышом картинку. Спросите, какие предметы на ней *высокие*, а какие *низкие*. Предложите посмотреть в окно и найти на улице высокие и низкие предметы. Попросите малыша раскрасить машинку, которая едет около высокого дома, в синий цвет, а около низкого дома – в зеленый; яблоки на высоком дереве – в красный цвет, на низком – в желтый.





**Из каких геометрических фигур составлен рисунок? Каких фигур больше?**

Проведи линии от животных к их домикам. Оленёнок живёт в самом высоком доме, ёжик — в домике ниже, улитка — в самом низком домике.




<http://www.liveinternet.ru/users/maknika/>

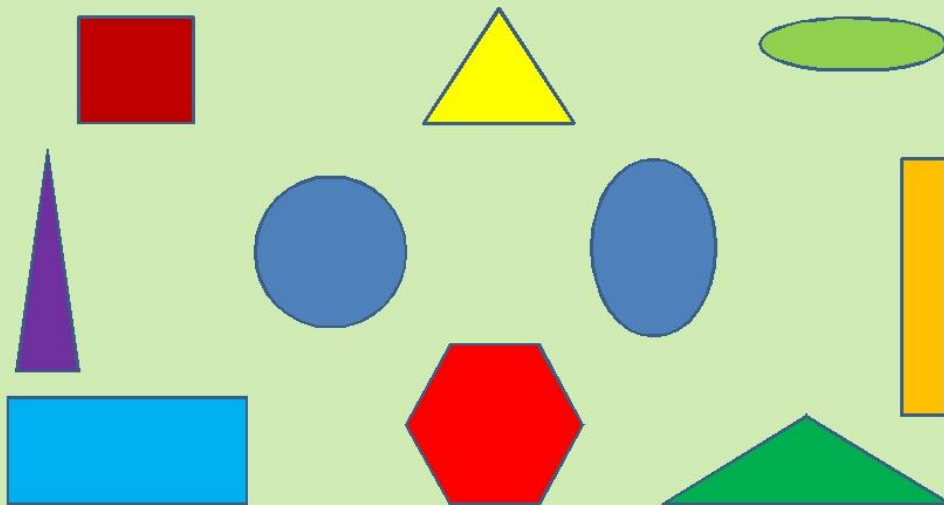
**Какая фигура лишняя?**




Какой фигуры не хватает?



- НАЗОВИ ГЕОМЕТРИЧЕСКИЕ ФИГУРЫ
- КАКИЕ ФИГУРЫ ОТНОСЯТСЯ К МНОГОУГОЛЬНИКАМ? СКОЛЬКО ЗДЕСЬ МНОГОУГОЛЬНИКОВ?
- ЧЕМ ОТЛИЧАЮТСЯ КРУГ И ОВАЛ? ЧЕМ ОНИ ПОХОЖИ?



КАКАЯ ФИГУРА РАСПОЛОЖЕНА В ЦЕНТРЕ?  
ГДЕ НАХОДИТСЯ ТРЕУГОЛЬНИК?  
В ЛЕВОМ ВЕРХНЕМ УГЛУ НАХОДИТСЯ ...  
ПЯТИУГОЛЬНИК РАСПОЛОЖЕН В ...  
КАКОЙ ПРЯМОУГОЛЬНИК НАХОДИТСЯ ВНИЗУ?



Какая фигура на рисунке  
лишняя?

