

3.


Расшифруй числа.

$$\begin{array}{l} \text{●} + \text{●} = 6 \\ \text{●} - \text{---} \\ \text{●} + \text{●} = 4 \\ \text{●} - \text{---} \\ \text{●} + \text{●} = \text{●} \\ \text{●} - \text{---} \\ \text{●} + 1 = \text{●} \\ \text{●} - \text{---} \\ \text{○} - \text{●} = \text{●} \\ \text{○} - \text{---} \end{array}$$






















4.

Нарисуй недостающую маску.






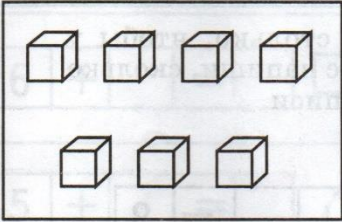

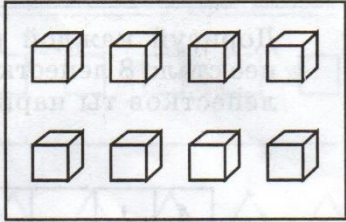
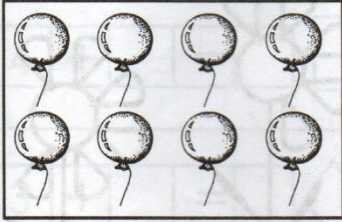

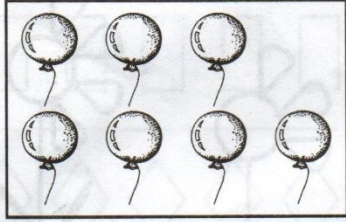
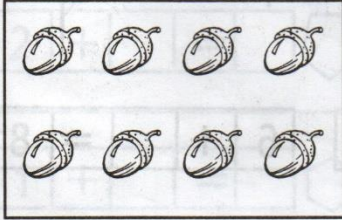

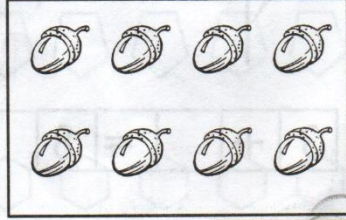
5.

 +  = 10	 = <input type="text"/>	 = <input type="text"/>	 = <input type="text"/>
 +  = 8	 = <input type="text"/>	 = <input type="text"/>	
 +  = 6			
 +  = 4			
 +  = 2			

 +  + <input type="text"/> = 10
 +  + <input type="text"/> = 10

6.

Нарисуй в прямоугольниках предметов столько, чтобы их количество соответствовало знаку между ними. Прочитай записи.

Зачеркни неправильные ответы.

$$\text{fish} + 0 = \text{fish}$$

$$\text{tree} - 1 = \text{tree}$$

$$\text{cherry} + 0 = \text{carrot}$$

$$\text{fish} + 1 = \text{fish}$$

$$\text{tree} - 0 = \text{tree}$$

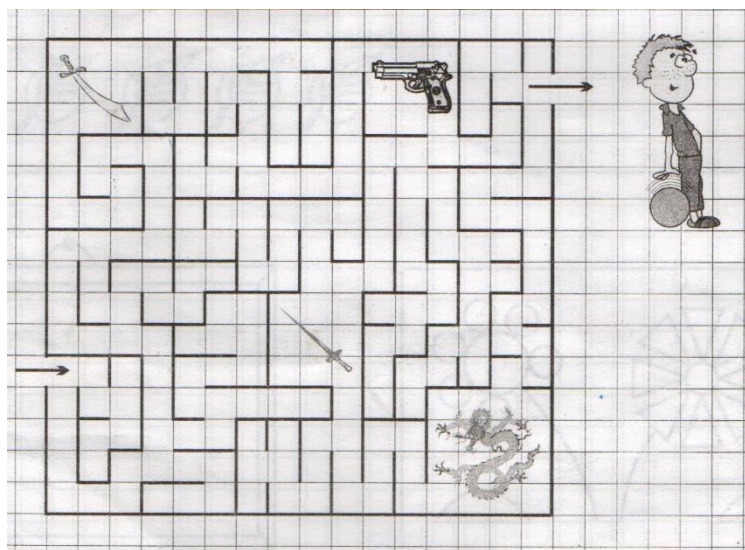
$$\text{cherry} + 2 = 1$$

$$\text{fish} < \text{fish} + 1$$

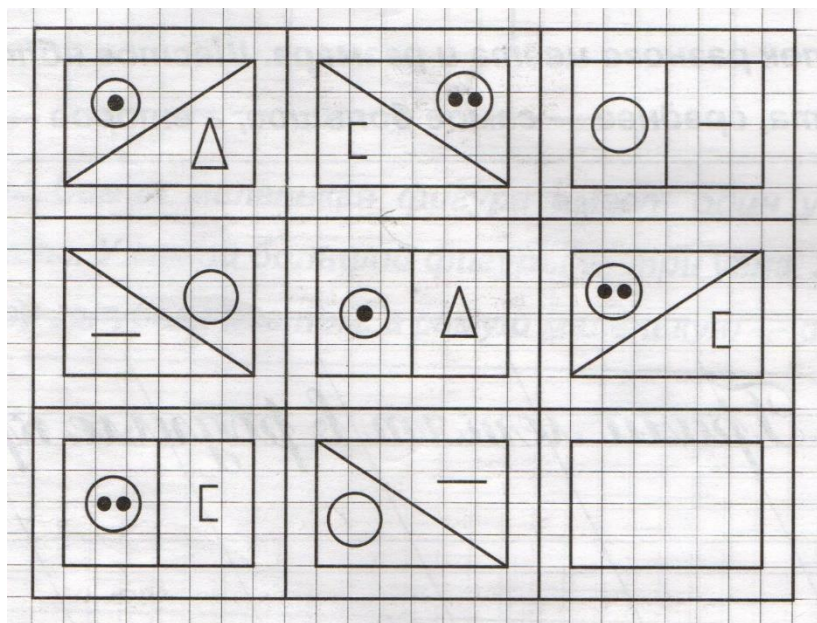
$$\text{tree} + 0 > \text{tree}$$

$$\text{cherry} - 0 < \text{cherry}$$

7. Собери оружие и победи дракона.











8. Найди закономерность и дорисуй.



9.

Засели жителей в нужные квартиры. Назови номер пустой квартиры. Кто должен в ней жить? Нарисуй.



	1	2	3
A			
Б			
B			

11.

Допиши равенства.

$$\text{🍄} + 1 = 5$$

$$\text{🚩} - 1 = 6$$

$$\text{🍏} + 1 = 7$$

$$\text{🍄} + 1 + 1 =$$

$$\text{🚩} - 1 - 1 =$$

$$\text{🍏} + 2 =$$

$$\text{🍄} + 2 =$$

$$\text{🚩} - 2 =$$

$$\text{🍏} + 3 =$$

12.

Расшифруй номер телефона.

$$\text{🔴} + 1 = 9$$

$$\text{🟡} - 2 = 7$$

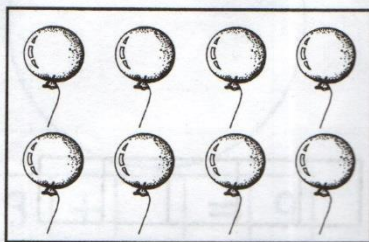
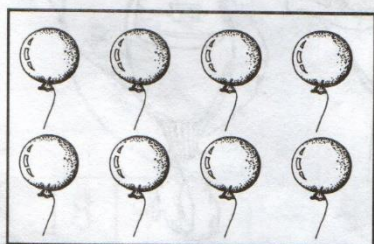


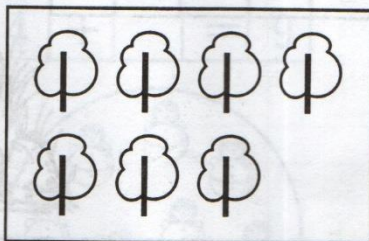
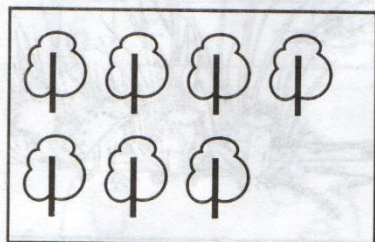
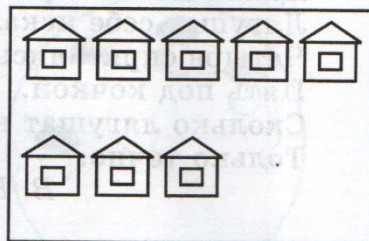
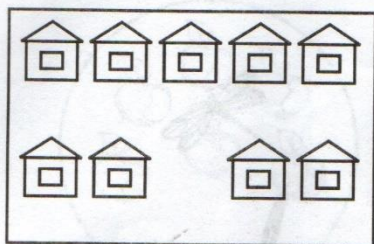
$$\text{🟡} - \text{🔴} = \text{🟢}$$

$$\text{🟡} + 2 = \text{🟢}$$




13.

Дорисуй в прямоугольниках предметов столько, чтобы их количество соответствовало знаку между ними. Прочитай записи.



14.

1. Представь, что смотришь на мир через волшебные очки. Какую картинку через какие очки ты увидел? Объясни, почему?



2. Нарисуй эту картинку, глядя на неё через разные волшебные очки.

