

Путешествие по стране «Математика»



На дереве сидят четыре птицы:
Два воробья, остальные вороны.
Сколько ворон?



На столе лежало 4 яблока. Одно из них
разрезали пополам и положили на стол.

Сколько яблок стало на столе?



**Горело 7 свечей. 2 свечи погасили.
Сколько в конце свечей осталось?**



2 свечи.





Игра "Рыбалка"



Помоги пчёлам попасть домой



Почини - сапоги



Вот грибочки на
лужайке.
В жёлтых шапочках
стоят.
2 грибочка, 3 грибочка.
Сколько вместе будет?







МОЛОДЦЫ!

